




# La Grande Guerre

## vue par un enfant



Dessin conservé aux Archives municipales d'Épernay, 8Num14


Dossier pédagogique  
- Livret élève -  
13-15 ans

## Comment ces dessins nous sont-ils parvenus ?

*Marcel Meyer est né à Magenta (Dizy-Magenta jusque 1965) le 22 août 1908. Issu d'une famille ouvrière, il devient apprenti aux Ateliers des Chemins de fer de l'Est où son père travaillait. Marcel Meyer effectue son service militaire dans un régiment d'aérostation militaire.*

*Il s'intéresse très vite à la peinture contre l'avis de ses parents qui lui reprochent de vouloir échapper à sa condition sociale. Il intègrera plus tard le groupe sparnacien « Créer » et participera à de nombreuses expositions à Épernay où il meurt en 1985.*

*Lorsque la Première Guerre mondiale se déclenche, il n'a que 6 ans. À partir de l'âge de 8 ans, il va commencer à utiliser un petit cahier pour dessiner sa vie de tous les jours.*



*Grâce à ce document unique, nous disposons d'un témoignage direct sur la vie quotidienne à Épernay de 1916 à 1918.*

*Pour une raison inconnue, le « cahier du petit Marcel » s'est retrouvé sur une brocante. M. Lesjean en a fait l'acquisition en 2015. Il nous a autorisés, avec l'accord de M. Patrick Meyer, fils de Marcel, d'utiliser ces dessins pour réaliser cette exposition.*

*L'éclairage qu'ils apportent à nos sources complète notre connaissance de la période.*





# LES SOLDATS À L'ARRIÈRE-FRONT

1 - Quand la France entre-t-elle dans le premier conflit mondial ?

---

2 - Qu'est-ce que le plan Schlieffen ?

---

---

---

---

3 - Tracez avec une flèche sur la carte ci-contre l'offensive allemande d'août 1914.

4 - De quand date la contre-offensive française ?

---

5 - Quand le front se stabilise-t-il dans la vallée de la marne ?

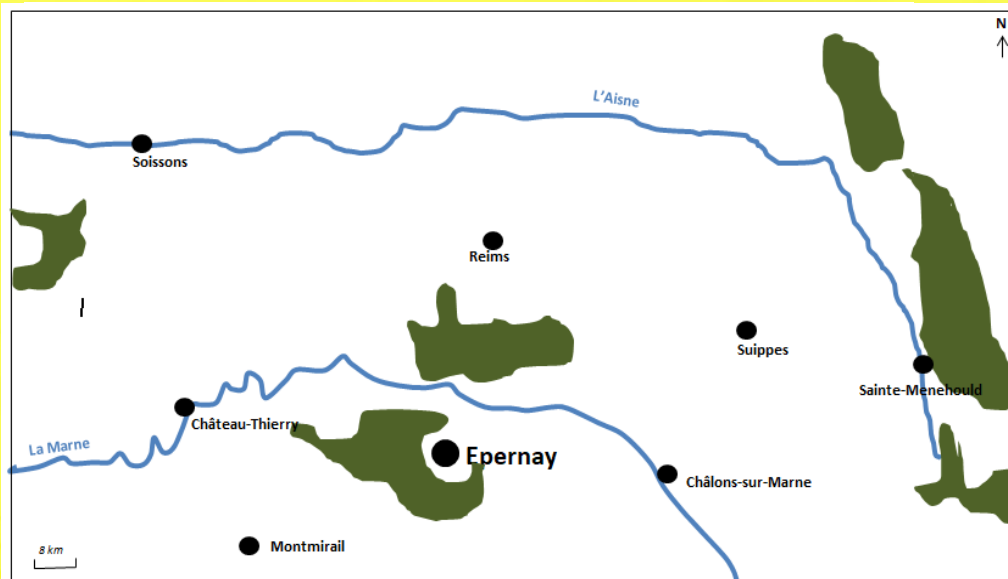
---

6 - Quelle position la ville d'Épernay occupe-t-elle par rapport à la zone de combat de septembre 1914 à mai 1918 ?

La ville d'Épernay n'est pas directement sur la zone des combats mais se trouve à 30 km du front seulement. On parle d'une ville d'arrière-front.

La ville d'Épernay est directement sur la zone des combats. On parle d'une ville d'arrière-front.

La ville d'Épernay est à 30 km des combats. On parle d'une ville de l'arrière.



7 - Tracez sur la carte ci-contre l'emplacement du front entre septembre 1914 et mai 1918. Ecrivez de quel côté sont les armées françaises et allemandes.

8 - Comment les deux casernes présentes à Épernay pendant la Première Guerre mondiale se nomment-elles ?

---

---

---

9 - Comment ces casernes sont-elles utilisées par l'armée française ?

- La situation de front d'Épernay permet de stocker des armes dans les casernes pour combattre.
- La situation d'arrière-front d'Épernay la met à l'abri des tirs d'obus et des combats. Les soldats peuvent donc s'y replier afin de se reposer.
- La situation de ville de l'arrière d'Épernay la met à l'abri des tirs d'obus et des combats. Les soldats peuvent donc s'y replier afin de se reposer.

10 - Quel problème pose l'uniforme français en 1914-1915 ?

---

---

11 - Quand l'armée française décide-t-elle d'adopter l'uniforme bleu horizon ?

- Août 1915                       Août 1914                       Août 1916

12 – Placez les mots suivants au bon emplacement sur le dessin :

- *Pantalon très voyant de l'uniforme français en 1914-1915*
- *Képi voyant de l'uniforme français en 1914-1915*
- *"Rosalie". Baïonnette de la première guerre mondiale pour le combat au corps à corps*
- *Fusil Lebel utilisé pendant la Première Guerre mondiale*
- *Havresac ("as de carreau") dans lequel le soldat range ses affaires*
- *Musette qui contient les vivres du jour pour le soldat*
- *Bandes molletières qui entourent les mollets*
- *Brodequins ayant une épaisse semelle cloutée.*



Détail d'un dessin conservé aux Archives municipales d'Épernay, Fonds Marcel Meyer, 8Num23



# VIVRE SOUS LES BOMBES

## La peur des avions

1 - Qu'appelle-t-on une "guerre intégrale" ?

- La guerre intégrale ou guerre totale est un conflit dans lequel l'ensemble des soldats (infanterie, aviation, marine...) est investi.
- La guerre intégrale ou guerre totale est un conflit dans lequel l'ensemble des pays d'Europe est en guerre.
- La guerre intégrale ou guerre totale est un conflit dans lequel l'ensemble de la société s'engage pour l'effort de guerre (industrie, finance, culture...).

2 - Pourquoi les villes deviennent-elles des cibles durant la Première Guerre mondiale ?

---



---



---

3 - Quel est le rôle des aéronefs durant la Première Guerre mondiale ?

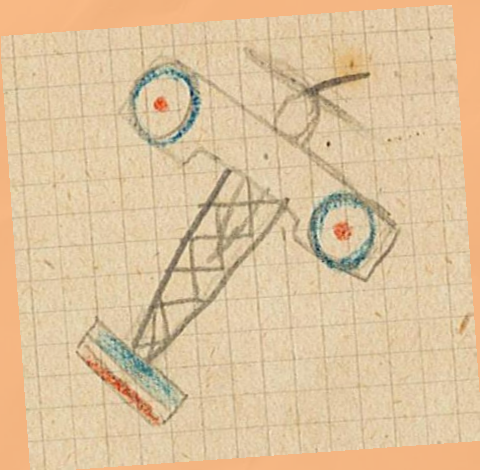
---



---

4 - Quels intérêts offrent les avions durant la Première Guerre mondiale ?

- Contrairement aux canons, les avions ne sont pas bloqués par une portée de tir.
- Les avions permettent d'emmener, plus rapidement et en sécurité, les soldats sur le front.
- Les avions peuvent attaquer à n'importe quel endroit.



Détail d'un dessin conservé aux Archives municipales d'Épernay, Fonds Marcel Meyer, 8Num6

5 – Comment se nomme l'avion que dessine Marcel Meyer ?

---

6 – Comment le reconnaît-on ?

---

7 - Quel est le principal défaut de cet avion ?

---



---



---


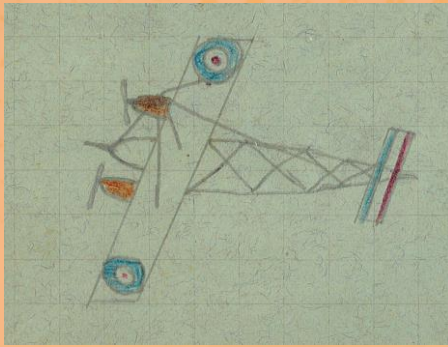


---

8 – Quelle solution technique est trouvée pour contourner ce défaut ?

- Cet avion n'a pas de mitrailleuses.
- L'hélice est placée derrière le pilote.
- Cet avion n'a pas d'hélice.

9 – Lequel de ces 3 dessins de Marcel Meyer représente le véritable modèle de cet avion ?



10 - Quelle est la période de bombardements la plus intensive sur Epernay ?

1914-1918

1916-1918

1917-1918

11 – Avec 60,77% de destructions, comment jugez-vous les dégâts sur la ville d'Épernay ?

Faibles

Assez importants

Très importants



# VIVRE SOUS LES BOMBES


## Une ville cible

1 - Quel intérêt une ville d'arrière-front peut-elle avoir pour l'armée ?

- Aucun
- Une ville d'arrière-front est totalement à l'abri des combats. Les soldats et les quartiers généraux des armées peuvent s'y installer durablement.
- Une ville d'arrière-front se trouve à une distance suffisante de la zone de combat pour permettre le repli de l'armée dans une zone sûre et un retour rapide sur le front.

2 – Remplacez au bon endroit les éléments suivants :

- Moulin de la Goësse
- Hôpital Auban-Moët
- Probable chapelle de l'Assomption se trouvant dans l'hôpital
- Pont de la marne
- Rivière de la marne
- Mont-Bernon



Dessin conservé aux Archives municipales d'Épernay, Fonds Marcel Meyer, 8Num9

3 - Quel quartier général était présent durant le conflit à Épernay ?

- Le Groupement des Armées du Centre vise à coordonner l'action des IV<sup>ème</sup>, V<sup>ème</sup> et VI<sup>ème</sup> armées. Son quartier général s'est installé un temps dans la ville d'Épernay.
- Le quartier général de la V<sup>ème</sup> armée était stationné à Épernay durant tout le conflit.
- L'État-Major de l'armée française était stationné à Épernay durant tout le conflit.

4 - Durant quelle période ce quartier général était-il présent à Épernay ?

- De septembre 1914 à avril 1916     D'août 1915 à septembre 1918     D'août 1915 à avril 1916

5 - Quelle confusion l'armée allemande a-t-elle faite concernant la présence de ce quartier général ?

---

---

6 - Pourquoi ce quartier général quitte-t-il la ville ?

---

---

7 - De quelles manières Épernay participe-t-elle à l'effort de guerre ?

- Présence d'un atelier de camouflage     Les Ateliers des Chemins de Fer de l'Est font des obus     Présence d'un centre de formation des officiers

8 - Quels axes de communication sparnaciens aident l'armée ?

---

---

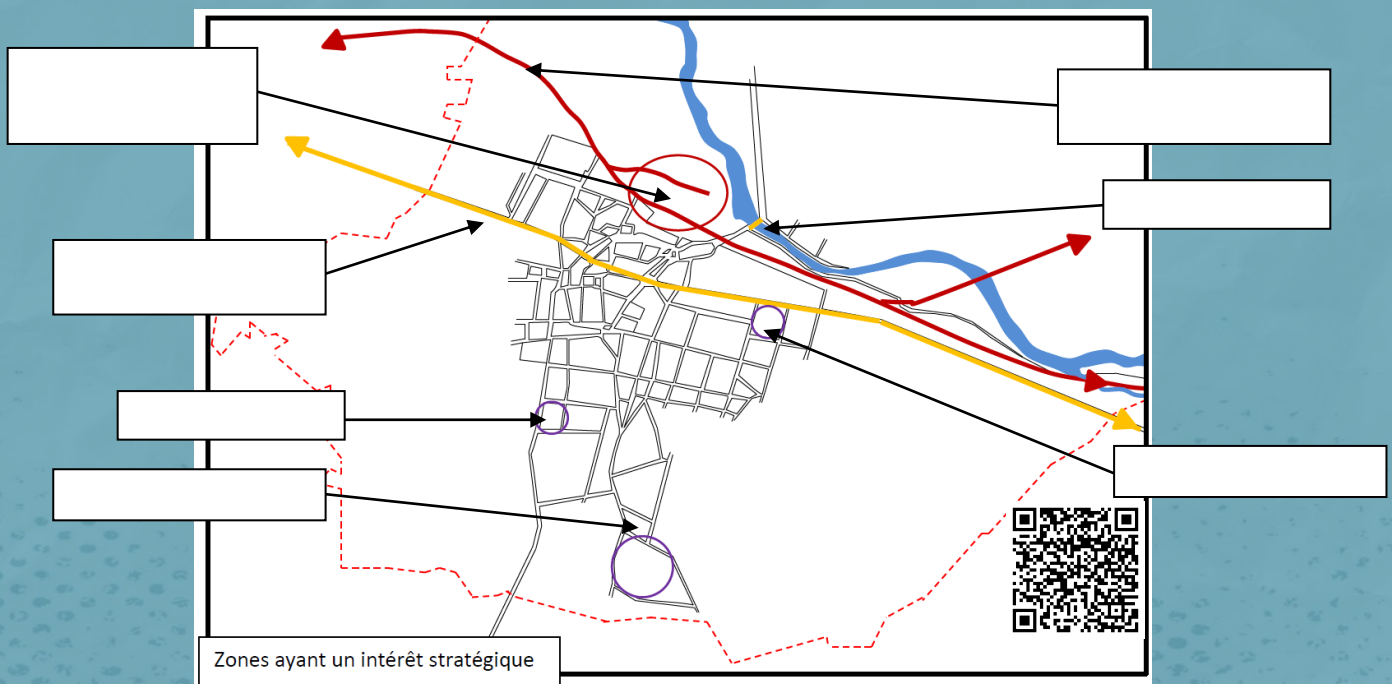
---

9 - Pourquoi ces axes sont-ils utiles à l'armée et donnent-ils à la ville d'Épernay un caractère stratégique ?

- Cet axe est-ouest parallèle au front permet de mieux repérer par avion la zone de combats     Cet axe est-ouest parallèle au front permet d'alimenter en continu la zone de combat.     Cet axe est-ouest parallèle au front sert de trait d'union entre la partie est et ouest du front.

10 - Replacez sur le croquis suivant les installations stratégiques de la ville d'Épernay :

- Chemin de fer (axe est-ouest)
- Route nationale 3 (axe est-ouest)
- Pont de la marnes
- Ateliers des Chemins de fer de l'Est produisant des obus
- Atelier de camouflage
- Caserne Abbé
- Caserne Margueritte





11 - Quelle modification dans le déroulement de la guerre permet à l'Allemagne de lancer une grande offensive contre la France en mai 1918 ?

- En mars 1918, l'Allemagne signe une paix séparée avec la Russie à Brest-Litovsk. Les forces du Kaiser peuvent désormais concentrer toutes leurs forces sur le front ouest en France.
- En avril 1918, les Etats-Unis entre dans le conflit aux côtés de la France et du Royaume-Uni.
- En mai 1918, l'Italie change d'alliance et se range du côté des Allemands.

12 - Combien d'obus frappent Épernay entre le 1<sup>er</sup> et le 20 juin 1918 ?

---

13 - Quelles conséquences ce déluge d'obus a-t-il sur la vie quotidienne de la ville d'Épernay ?

- La VI<sup>ème</sup> armée vient en aide à la V<sup>ème</sup> armée. Les habitants sont obligés de loger des soldats.
- Aucune
- La ville est évacuée. La population passe de presque 21 000 habitants à 2 000. Les Sparnaciens qui sont restés sont privés d'eau, de gaz et d'électricité.

14 - Quelle armée vient sauver Épernay de cette offensive allemande de mai-juillet 1918 ?

---



## VIVRE SOUS LES BOMBES

### Être alerté et se défendre

1 - Quelles sont les moyens par lesquels la population est prévenue d'une attaque aérienne ?

- Envoi d'une fusée paragrêle depuis le Mont-Bernon dès 1915.       Achat d'une sirène d'alarme en 1917.       La commune de Magenta dans laquelle le petit Marcel Meyer vivait faisait sonner les cloches de l'église Sainte-Marie.

2 - De quel avantage la ville d'Épernay va tirer profit pour mettre à l'abri sa population ?

---

3 - A partir de quelle année les caves sont reconnues comme le moyen le plus efficace de protéger la population ?

---

4 - Qu'est-ce qu'une DCA ?

---

5 – Que se passe-t-il en mai 1916 ? Pourquoi ?

- En mai 1916, la ville subit une attaque aérienne de grande amplitude. Les Allemands ont été informés de la présence de l'État-Major.       En mai 1916, le Groupement des Armées du Centre quitte la ville d'Épernay à cause d'une intensification des bombardements. Ils emportent avec eux leur DCA.       En mai 1916, le quartier général de la V<sup>ème</sup> armée quitte la ville d'Épernay à cause d'une intensification des bombardements. Ils emportent avec eux leur DCA.

6 – Comment le maire d'Épernay réagit-il à l'événement de mai 1916 et aux conséquences qu'il entraîne pour la protection de la ville ?

---

---

7 - Quels moyens sont utilisés pour se défendre contre les attaques aériennes ?

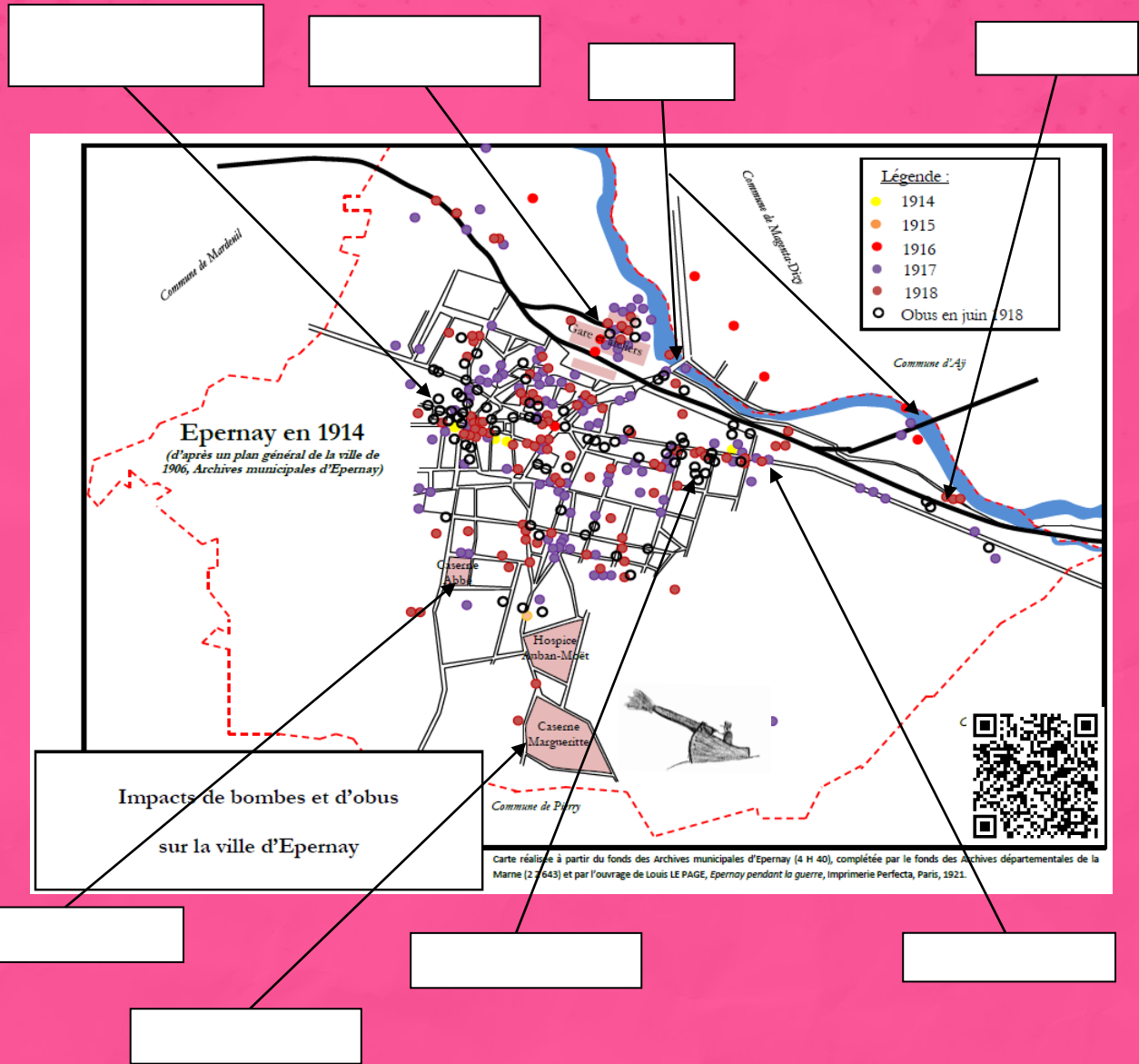
---

---

---

8 – A l’aide de ce panneau et du panneau précédent, expliquez pourquoi certaines zones de la ville d’Épernay sont des cibles d’attaques. Qu’y trouvait-on ?

- Chemin de fer
- Route nationale 3
- Les ponts
- Ateliers des Chemins de fer de l'Est
- Atelier de camouflage
- Caserne Abbé
- Caserne Margueritte
- Mitrailleuses de la DCA situées rue des Rocherets



9 - D’après la carte des bombardements ci-dessus, quelle DCA est la plus efficace pour défendre la ville ?

---



---

10 - Quels aviateurs connus Marcel Meyer cite-t-il ?

---



---

11 - Quel bâtiment sparnacien met en danger la ville car il est trop voyant de nuit ?

---



---

12 - Comment se nomme l'ensemble des méthodes de protection des civils mises en place dans les années 1930 et s'inspirant de ce qui a été fait pendant la Première Guerre mondiale ?

La Défense passive

La Résistance passive

L'Attaque passive



# ÉPERNAY, UNE VILLE SANITAIRE

1 – D’après les informations évoquées dans le panneau, qu'appelle-t-on une ville sanitaire ?

- Une ville sanitaire est une ville très propre, très saine.
- Une ville sanitaire est une ville dans laquelle on place les soldats devenus fous à cause des souffrances au combat.
- Une ville sanitaire est une ville dont la fonction principale est de soigner les soldats grâce à un réseau très dense d’hôpitaux et d’ambulances.

2 - Combien de soldats...

...sont morts au total durant la Première Guerre mondiale ?	...français sont morts pendant la Première Guerre mondiale ?

3 - Quel est l'hôpital principal d'Épernay ?  
\_\_\_\_\_

4 - Combien de lits...

...l’hôpital Auban-Moët réserve-t-il à l'armée en 1893 ?	...l’armée française occupe-t-elle en 1916 dans l’hôpital Auban-Moët ?

5 - Face à l'afflux massif de soldats blessés, que doit-on créer ?  
\_\_\_\_\_  
\_\_\_\_\_

6 - L'hôpital Bayard évoqué par Marcel Meyer est l'annexe de quel hôpital auxiliaire ?  
\_\_\_\_\_

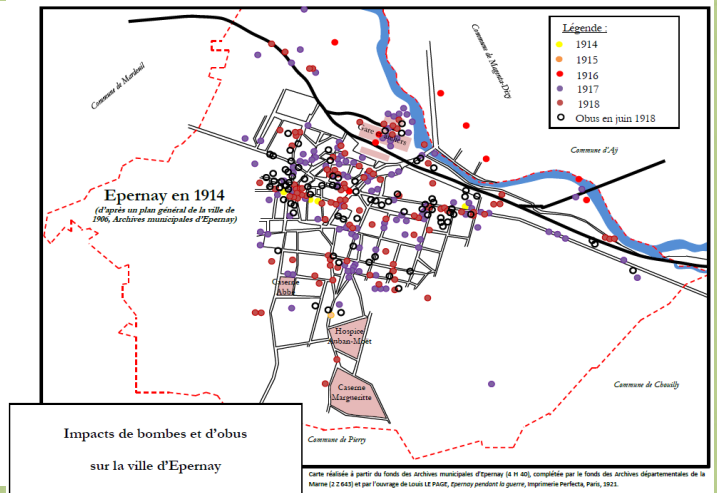
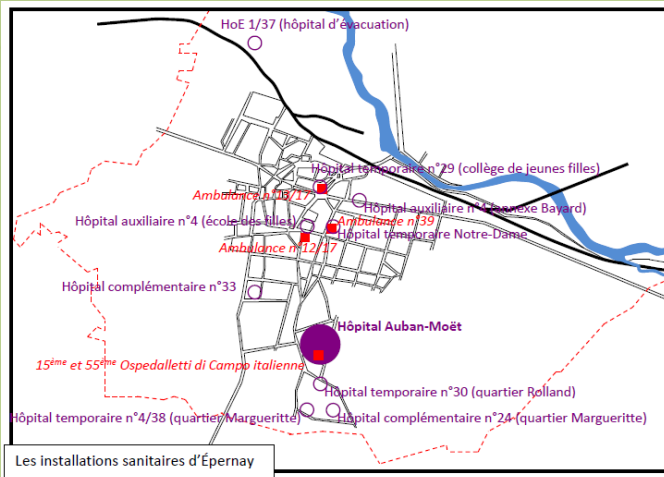
7 - Où se trouvait l'hôpital Bayard ?

- L’hôpital Bayard se trouvait à l’entrée de la rue du commerce (actuelle avenue de Champagne) à l’emplacement de l’actuelle banque.
- L’hôpital Bayard se trouvait au milieu de la rue du commerce (actuelle avenue de Champagne) à l’emplacement de l’actuel lycée.
- L’hôpital Bayard se trouvait à proximité de la rue du commerce (actuelle avenue de Champagne) à l’emplacement de l’actuel collège.

8 - Quelle ambulance étrangère trouvait-on à l'hôpital Bayard ?

9 - Qu'est-ce qu'un HoE ?

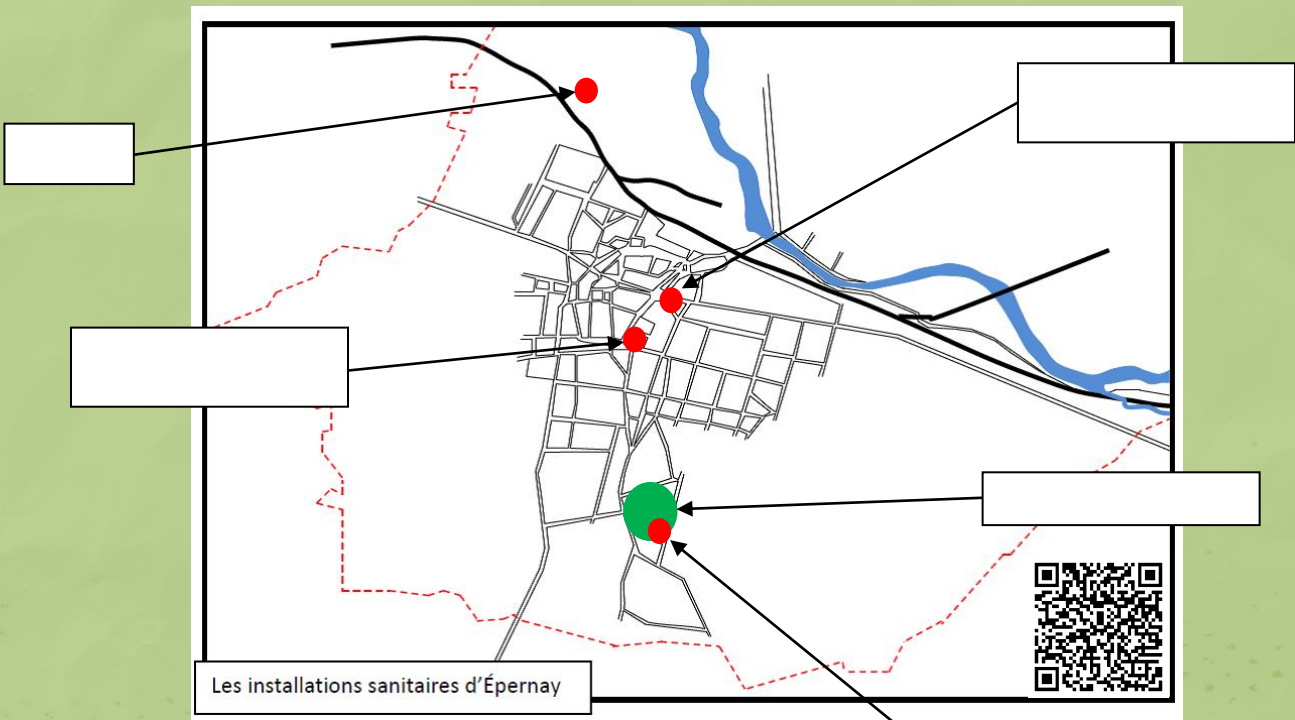
10 – En comparant les deux cartes ci-dessous, que constatez-vous concernant l'HoE ?



Impacts de bombes et d'obus sur la ville d'Epernay

11 – Replacez sur la carte ci-dessous les installations sanitaires sparnaciennes suivantes :

- HoE
- Hôpital Bayard (annexe de l'hôpital n°4)
- Hôpital auxiliaire n°4 (école de jeunes filles)
- Hôpital Auban-Moët
- 15<sup>ème</sup> et 55<sup>ème</sup> Ospedalletti di Campo italiana



12 - Quel docteur de l'armée italienne vient en aide à Épernay lors de l'offensive allemande de mai-juillet 1918 après l'évacuation des formations sanitaires françaises ?

---

13 – Quelle victoire décisive italienne sauve Épernay ?

- La victoire à la bataille de Bligny les 14-15 juillet 1918.       La victoire à la bataille de la Montagne de Reims les 14-15 juillet 1918.       La victoire à la bataille de la Marne les 14-15 juillet 1918.

14 - Quand les formations sanitaires françaises reviennent-elles à Épernay ?

---



## ÉPERNAY, UNE VILLE À RAVITAILLER

1 – D’après le premier panneau, dans quelle commune vit Marcel Meyer pendant la Première Guerre mondiale ?

---

2 - Pourquoi manque-t-on de nourriture et de sources d’énergies lors de la Première Guerre mondiale ?

- Les hommes sont au front et la main-d’œuvre baisse.       De nombreuses terres ne sont plus cultivées.       La faible production est destinée en priorité à l’armée.

3 - Quand le ministère du ravitaillement est-il créé et quel est son rôle ?

---

---

---

4 - Quel est le nom du moulin d'Epernay qui avait la charge, au nom du maire, de distribuer la farine aux boulangers de la ville ?

- Moulin de la Gueuse       Moulin de la Gousse       Moulin de la Goësse

5 – En quelle année sont créées les cartes d’alimentation ?

---

6 - A quelle quantité de pain avait droit un enfant comme Marcel Meyer pendant la Première Guerre mondiale ?

---

7 - Pourquoi la rivière de la marne ne peut-elle plus alimenter la ville en produits depuis le 11 septembre 1914 ?

- Les troupes allemandes ont détruit le pont de la Marne le 11 septembre 1914 lors de leur départ de la ville après une semaine d’occupation. La rivière n’est plus navigable à cause du pont provisoire.       L’armée française a détruit le pont en septembre 1914 pour éviter le passage des troupes allemandes. La rivière n’est plus navigable à cause du pont provisoire.       Un avion allemand a largué une bombe sur le pont le détruisant en partie. La rivière n’est plus navigable à cause du pont provisoire.

8 - Depuis le 11 septembre 1914, quels sont les deux moyens restants pour la ville d’être approvisionnée ?

- La route nationale n°3       Le chemin de fer       La rivière de la marne



9 - Quelles décisions prend le maire d'Épernay pour ne pas manquer de produits alimentaires et énergétiques ?

---

---

---




# OBSERVER LES LIGNES ENNEMIES

1 - Pourquoi la ville d'Épernay a-t-elle une situation idéale pour l'observation de la ligne de front ?

2 - Quelle est la limite des postes d'observation terrestres ?


3 - Quelles sont les moyens d'observation représentés par Marcel Meyer ?



A



B



C



D

A : _____	C : _____
B : _____	D : _____

4 - Comment les ballons captifs peuvent-ils transmettre des informations en temps réel ?

5 - Dans quelle circonstance Marcel Meyer a-t-il pu observer des ballons captifs sur Épernay ?

- En se rapprochant du front car les ballons captifs étaient déployés à environ 8 km du front (première ligne) et permettait une observation précise des positions ennemies. Ils étaient alors des cibles faciles pour les canons.
- Les ballons captifs pouvaient se replier en deuxième ligne, à 30 km du front, afin de se mettre hors de portée de tir.
- Les ballons captifs passaient au-dessus de la ville d'Épernay.

6 - Pourquoi l'armée utilise-t-elle des cerfs-volants ?

- Pour lutter contre les cerfs-volants ennemis.
- Pour observer avec des appareils photos sans mettre d'hommes.
- Par temps de grands vents, les ballons captifs ne peuvent pas être utilisés. L'armée a alors recourt aux cerfs-volants.

7 - A quoi sert un "julot" ?

---

---

8 - Quel surnom donne-t-on aux ballons Caquot ?

Les « saucisses »

Les « teckels »

Les « obus »

9 - A partir de quelle année le ballon Caquot est-il utilisé ?

---

---

10 - Pourquoi les ballons Caquot remplacent-ils progressivement les ballons captifs et les cerfs-volants à partir de cette date ?

---

---

11 - Quel nom donne-t-on à ces divers moyens d'observation aériens fixes ?

Les aéronefs

Les aérostats

Les aérospatiaux

12 - Pourquoi ces moyens d'observation ont-ils une durée de vie limitée ?

Les toiles se déchirent très facilement.

Les changements de températures modifient l'hydrogène qui les gonfle. Des explosions sont possibles.

Ils sont gonflés à l'hydrogène. Offrant des cibles faciles, les balles incendiaires des avions les faisaient exploser en vol.

13 - D'après le premier panneau, comment voit-on que Marcel Meyer a été marqué par la présence de ces aérostats au-dessus d'Épernay durant son enfance ?

---

